



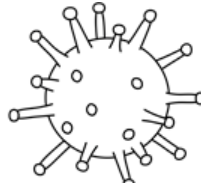
NOME:

2º ANO:

ATIVIDADE SOBRE O TEMA: CORONAVÍRUS PARA O DIA 22/04/2020

1) LEIA O TEXTO ABAIXO PARA SUA CRIANÇA.

CORONAVÍRUS



CORONAVÍRUS É UMA FAMÍLIA DE VÍRUS QUE CAUSAM INFECÇÕES RESPIRATÓRIAS. A CONTAMINAÇÃO DE PESSOA PARA PESSOA ESTÁ OCORRENDO, SENDO TRANSMITIDA PELO AR, POR MEIO DE TOSSE OU ESPIRRO, CONTATO PESSOAL PRÓXIMO, CONTATO COM OBJETOS OU SUPERFÍCIES CONTAMINADAS, SEGUIDO ENTÃO DE CONTATO COM A BOCA, NARIZ OU OLHOS.





OS PRINCIPAIS SINTOMAS CONHECIDOS ATÉ O MOMENTO SÃO: FEBRE, TOSSE E DIFICULDADE PARA RESPIRAR.

PARA PREVENI-LO É NECESSÁRIO: LAVAR AS MÃOS FREQUENTEMENTE; USAR ÁLCOOL EM GEL; EVITAR TOCAR NOS OLHOS; NARIZ E BOCA; EVITAR CONTATO COM PESSOAS DOENTES; FICAR EM CASA QUANDO ESTIVER DOENTE E COBRIR A BOCA E NARIZ AO TOSSIR OU ESPIRRAR COM UM LENÇO DE PAPEL E JOGAR NO LIXO.

Produção de texto



2) ESCREVA UMA FRASE PARA CADA FIGURA:

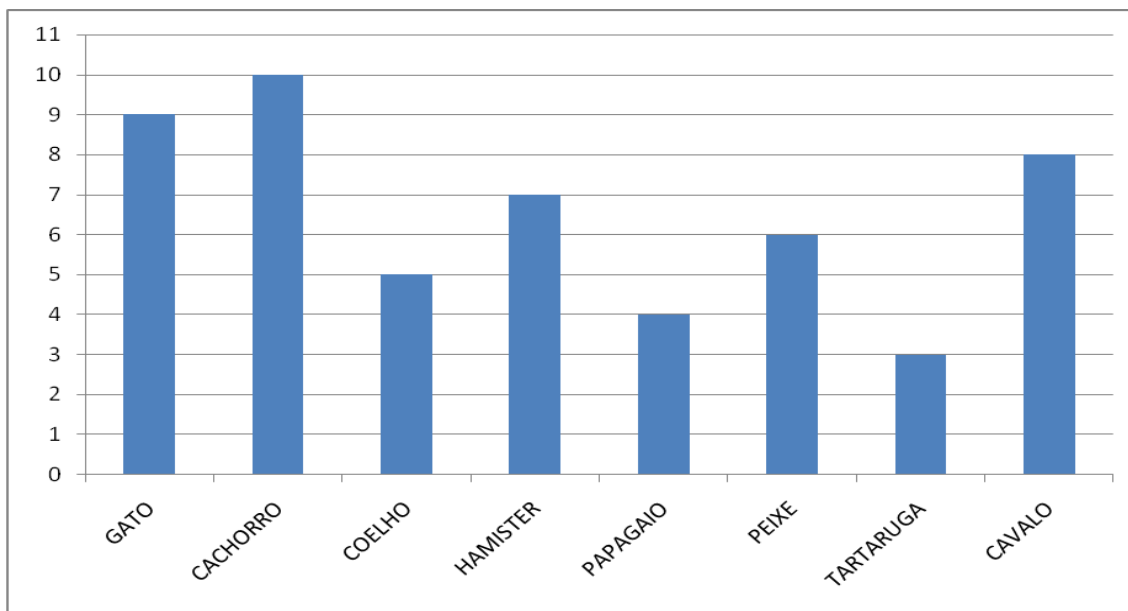


NOME:

2º ANO:

ATIVIDADES DE MATEMÁTICA DO DIA 23/04/2020

1) OBSERVE O GRÁFICO E RESPONDA AS QUESTÕES ABAIXO:

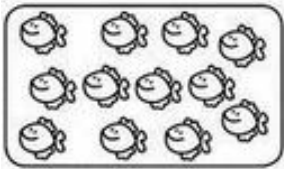



QUAL É O ANIMAL QUE HÁ EM MAIOR QUANTIDADE? _____

QUAL É O ANIMAL QUE HÁ EM MENOR QUANTIDADE? _____

SE JUNTARMOS A QUANTIDADE DE PAPAGAIOS E TARTARUGAS QUANTOS ANIMAIS TEREMOS?

2) OBSERVE AS FIGURAS ABAIXO E COMPLETE O QUADRO:

	REGISTRO DO TOTAL DE FIGURAS	ESCREVA O TOTAL COMO SE LÊ
		
		




NOME:

2º ANO:

ATIVIDADES DE LÍNGUA PORTUGUESA DO DIA 24/04/2020

1) OBSERVE A ESCRITA DO NOME DO ANIMAL REPRESENTADO ABAIXO.



C R O C O D I L O

9) QUANTAS CONSOANTES FORMAM O NOME DESSE ANIMAL? ASSINALE

4

5

9

2) OBSERVE A IMAGEM A SEGUIR.



QUANTAS SÍLABAS FORMAM O NOME DESSE OBJETO?
ASSINALE:

4

7

9

3) A PROFESSORA DO 2º ANO ESPALHOU ALGUNS CRACHÁS COM NOMES DE ALUNOS NO CHÃO DA SALA DE AULA E PEDIU QUE ELES OS COLOCASSEM EM ORDEM ALFABÉTICA.

ISADORA		MIGUEL		DENIS
	RAFAEL		LAURA	

QUAL DAS ALTERNATIVAS ABAIXO APRESENTA O RESULTADO CORRETO DA ATIVIDADE.

DENIS, ISADORA, LAURA, MIGUEL, RAFAEL.

RAFAEL, ISADORA, DENIS, LAURA, MIGUEL.

LAURA, MIGUEL, DENIS, RAFAEL, ISADORA.



PREFEITURA MUNICIPAL DE MACATUBA
SECRETARIA DE EDUCAÇÃO
"Vera Lúcia Simon França Nogueira"

NOME: _____

2º ANO

ATIVIDADES DE MATEMÁTICA DO DIA 27/04/2020

1) AGRUPE AS FIGURAS:

DE 4 EM 4

- a) QUANTOS GRUPOS VOCÊ FORMOU? _____
b) QUANTAS ESTRELAS SOBRARAM? _____

DE 5 EM 5

- c) QUANTOS GRUPOS VOCÊ FORMOU? _____
d) QUANTAS ESTRELAS SOBRARAM? _____

2) OBSERVE AS CÉDULAS E MOEDAS ABAIXO E RESPONDA.

RENAN TEM ESTAS NOTAS E ESTA MOEDA.
QUE QUANTIA ELE TEM NO TOTAL?

ANA TEM ESTAS NOTAS E ESTAS MOEDAS.
QUE QUANTIA ELA TEM NO TOTAL?

RENAN E ANA TEM JUNTOS _____ REAIS.




NOME:

2º ANO:

ATIVIDADES DE LÍNGUA PORTUGUESA DO DIA 28/04/2020

1) FAÇA UM X NO QUADRADINHO QUE APRESENTA AS DIFERENTES MANEIRAS DE ESCREVER O NOME DA FIGURA ABAIXO:

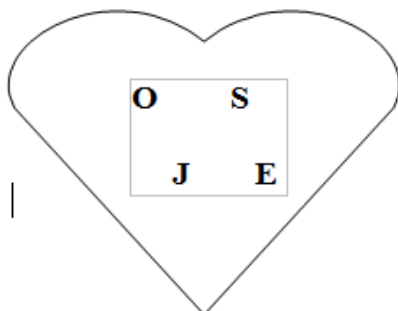



CANETA, caneta, *caneta*

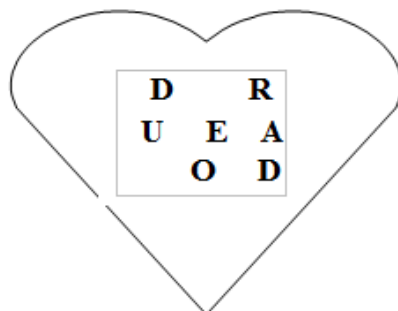
CADEIRA, cadeira, *cadeira*

CARACOL, caracol, *caracol*







2) ORGANIZE AS LETRAS DE CADA CORAÇÃO E FORME NOMES:







3) QUAL LETRA ESTÁ FALTANDO PARA COMPLETAR O NOME DE CADA IMAGEM REPRESENTADA?

		
<p>__ A __ A</p>	<p>CA __ EA __ O</p>	<p>__ OM __ EIRO</p>
		
<p>__ OM __ A</p>	<p>__ OMA __ A</p>	<p>__ EN __ ILA __ OR</p>



PREFEITURA MUNICIPAL DE MACATUBA
SECRETARIA DE EDUCAÇÃO
"Vera Lúcia Simon França Nogueira"

NOME: _____

2º ANO: _____


ATIVIDADES DE MATEMÁTICA DO DIA 29/04/2020

1) COMPLETE OS QUADROS PARA FORMAR A QUANTIDADE INDICADA NO TOPO:

12		
8	+	
7	+	
6	+	

14		
10	+	
9	+	
8	+	

2) MARA ESTÁ FAZENDO GINÁSTICA. PINTE A MÃO DIREITA DE MARA NO PRIMEIRO E NO SEGUNDO QUADRO.



3) OBSERVE O CALENDÁRIO DO MÊS DE ABRIL.

<i>ABRIL 2020</i>						
DOMINGO	SEGUNDA- FEIRA	TERÇA- FEIRA	QUARTA- FEIRA	QUINTA- FEIRA	SEXTA- FEIRA	SÁBADO
			1	2	3	4
5	6	7	8	9	10	11
12	13	14	15	16	17	18
19	20	21	22	23	24	25
26	27	28	29	30		


PINTE DE AMARELO, NO CALENDÁRIO, O DIA DE HOJE.

QUE DIA DA SEMANA É HOJE? _____

PINTE DE AZUL, NO CALENDÁRIO, O DIA QUE FOI ONTEM.

QUE DIA DA SEMANA SERÁ AMANHÃ? _____

4) CIRCULE OS OBJETOS QUE LEMBRAM UM CUBO.





NOME:

2º ANO:

ATIVIDADES DE LÍNGUA PORTUGUESA DO DIA 30/04/2020

1) LEIA O TEXTO ABAIXO.

A CASA E SEU DONO

ELIAS JOSÉ

ESSA CASA É DE CACO
QUEM MORA NELA É O MACACO.

ESSA CASA É DE CIMENTO
QUEM MORA NELA É O JUMENTO.

ESSA CASA É DE TELHA
QUEM MORA NELA É A ABELHA.

ESSA CASA É DE LATA
QUEM MORA NELA É A BARATA.

ESSA CASA É ELEGANTE
QUEM MORA NELA É O ELEFANTE.

E DESCOBRI DE REPENTE
QUE NÃO FALEI EM CASA DE GENTE.

9 FAÇA UM X NA RESPOSTA CORRETA.

ESSE TEXTO É:

RECEITA

POEMA

BILHETE

9 NUMERE AS LINHAS DO TEXTO AO LADO E RESPONDA:

QUANTOS VERSOS TEM ESSE TEXTO?

9 QUANTAS ESTROFES HÁ NESSE TEXTO?

12

8

6

9 PINTE NO TEXTO DUAS PALAVRAS QUE RIMAM.

2) ESCREVA NO QUADRO ABAIXO 3 NOMES FEMININOS E 3 MASCULINOS.

<u>NOMES MASCULINOS</u>	<u>NOMES FEMININOS</u>